

社 会

時間 45 分

(12時35分～13時20分)

注 意

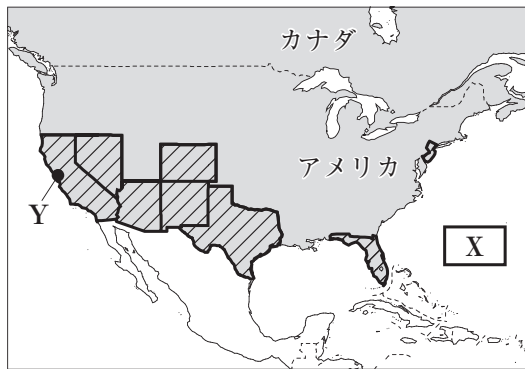
- 1 問題用紙は「始めなさい」という合図があるまで開いてはいけません。
- 2 問題用紙は表紙を入れて8ページあり、これとは別に解答用紙が1枚あります。
- 3 受検番号は、検査開始後、解答用紙の決められた欄に記入しなさい。
- 4 机の上に置けるものは、受検票・鉛筆(シャープペンシルも可)・消しゴム・鉛筆削りです。
- 5 筆記用具の貸し借りはいけません。
- 6 問題を読むとき、声を出してはいけません。
- 7 印刷がはっきりしなくて読めないときや、筆記用具を落としたときなどは、だまって手をあげなさい。
- 8 「やめなさい」という合図ですぐに書くのをやめ、筆記用具を置きなさい。

答えの書き方

- 1 答えは、問題の指示に従って、すべて解答用紙に記入しなさい。
- 2 答えはていねいに書きなさい。答えを書き直すときは、きれいに消してから書きなさい。

1 下の略地図や資料を見て、次の(1)～(4)に答えなさい。(14点)

略地図1






略地図2



(1) 略地図1, 2中の「X」に共通してあてはまる海洋を何というか、書きなさい。

(2) 略地図1について、次のア, イに答えなさい。

ア 略地図1中ので表された州の人口構成について述べた下の文中のにあてはまる語を書きなさい。

これらの州では、メキシコや中央アメリカ、西インド諸島の国々から移住し、スペイン語を話す、とよばれる人々が20%以上を占めている。

イ 略地図1中の都市Yの郊外には、アジア系やヨーロッパ系の人々などさまざまな国籍をもつ優秀な人材が集まるICT関連企業が集中している地区がある。この地区は何とよばれているか、書きなさい。

(3) 略地図2について、次のア, イに答えなさい。

ア 資料1は、スペインやイタリアの食事には欠かせない、ある農産物の生産量上位3か国を表している。この農産物として適切なものを、次の1～4の中から一つ選び、その番号を書きなさい。

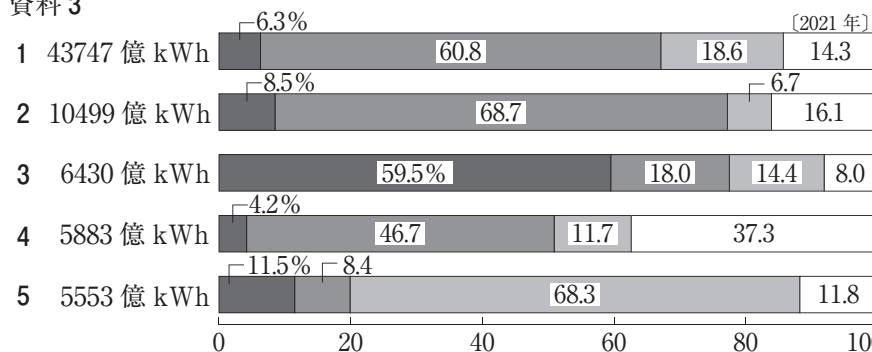
1 オリーブ 2 トマト 3 小麦 4 オレンジ

イ 資料2は、EU加盟国であるチェコとオーストリアの国境を表している。多くのEU加盟国間での移動の特徴を、次の2語を用いて書きなさい。

パスポート 国境

(4) 資料3は、カナダ、アメリカ、フランス、ドイツ、日本の発電エネルギー源別割合を、総発電量の多い国の順に並べたものを表している。アメリカとドイツについて表しているものを、資料3中の1～5の中から一つずつ選び、その番号を書きなさい。

資料3



〔「データブック オブ・ザ・ワールド 2024年版」による〕

資料1 (2020年)

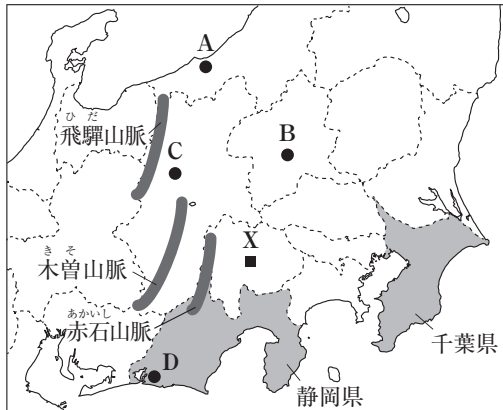
国名	生産量 (千トン)
スペイン	8138
イタリア	2207
チュニジア	2000

〔「FAOSTAT」による〕

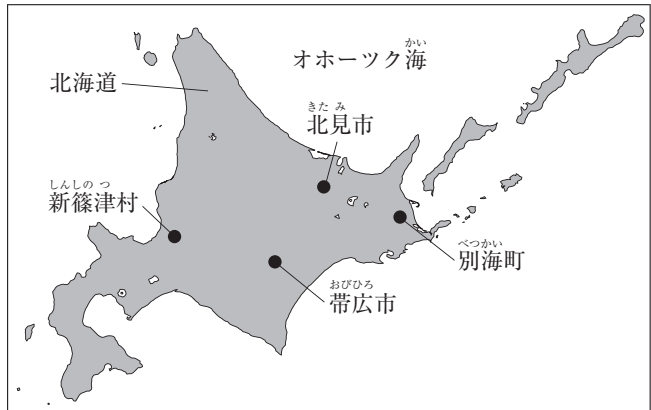
資料2

2 下の略地図や資料を見て、次の(1)～(3)に答えなさい。(15点)

略地図1



略地図2



(1) 略地図1について、次のア～ウに答えなさい。

ア 標高3000m前後の飛驒山脈、木曽山脈、赤石山脈をまとめて何とよぶか、書きなさい。

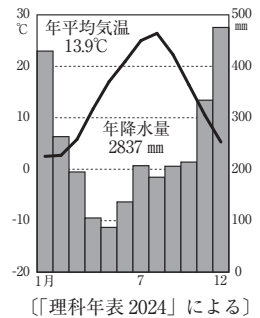
イ 資料1は、略地図1中のX付近に見られる地形を表している。資料1

資料1について述べた下の文章中の に共通してあてはまる語を書きなさい。また、 に入る適切な内容を書きなさい。

資料1から読み取ることができる地形は である。
X付近では、昼と夜の気温差が大きいこと、日当たりが良いこと、また、 の特徴である ことを生かした、ぶどうやももなどの果樹栽培が盛んである。

ウ 資料2は、略地図1中の都市A～Dのいずれかの雨温図を表している。資料2はどの都市の雨温図か、A～Dの中から一つ選び、その記号を書きなさい。

資料2



(2) 略地図2について、次のア、イに答えなさい。

ア オホーツク海沿岸について述べた下の文中の に共通してあてはまる語を書きなさい。

冬は北から が流れてくるために漁業はできないが、 により海水の栄養分がかき混ぜられ、豊かな漁場になると考えられている。

イ 資料3は、北見市、別海町、帯広市、新篠津村の米、麦類、豆類、野菜、乳用牛の産出額を表している。資料3中の1～4のうち、別海町を表しているものを一つ選び、その番号を書きなさい。

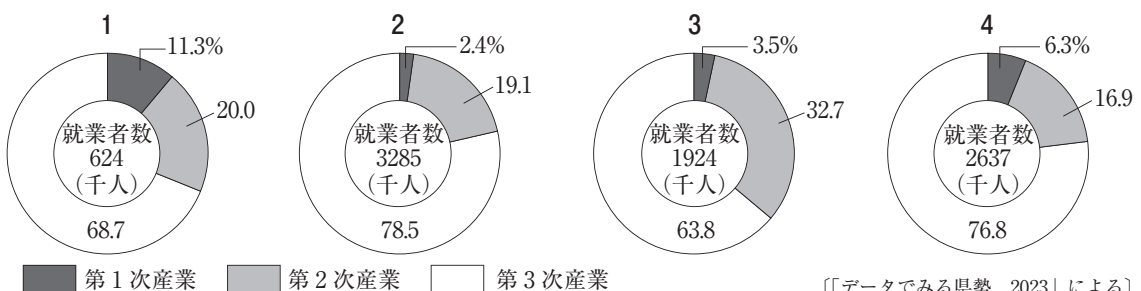
資料3

(2021年)

	米 (千万円)	麦類 (千万円)	豆類 (千万円)	野菜 (千万円)	乳用牛 (千万円)
1	—	299	225	729	493
2	—	1	—	3	6339
3	69	207	57	1828	428
4	274	49	38	92	—

〔「令和3年市町村別農業産出額(推計)」による〕

(3) 次の1～4は、北海道、青森県、千葉県、静岡県のいずれかの就業者数と産業別就業者割合を表している。北海道と静岡県について表しているものを一つずつ選び、その番号を書きなさい。



〔「データでみる県勢 2023」による〕

3 下の表と会話は、ある班が古代から近世までの宗教や文化をまとめ、それを基に江戸時代の学問について話し合っている様子を表している。次の(1)～(6)に答えなさい。(15点)

奈良	(㉔)が①東大寺を建てて金銅の大仏を造らせる。
鎌倉	源平の争乱の中で焼けた東大寺南大門が、(㉕)の新しい建築様式を取り入れて再建される。
戦国	イエズス会宣教師のザビエルがキリスト教を伝える。
	↑ ⑧ ↓
江戸	徳川綱吉が、人々に慈悲の心を持たせるために、生類憐みの政策を行う。

Aさん：私は、徳川綱吉の時代に、朱子学が広く学ばれた理由について調べてみたいな。

Bさん：私は、18世紀以降、仏教や儒学が伝わる以前の日本人の考え方を明らかにしようとする国学が盛んになっていくことに興味があるよ。

Cさん：18世紀後半、(㉖)が『古事記伝』を著し、国学を大成したと授業で学習したね。

Dさん：その国学が、天皇を尊ぶ思想と結び付き、幕末の⑨尊王攘夷運動にどのような影響を与えたのかを考察することも面白そうだね。

- (1) (㉔)にあてはまる天皇は誰か、書きなさい。
- (2) 資料1は、下線部①の正倉院宝物についてまとめたものである。資料1中の□にあてはまる語を書きなさい。
- (3) (㉕)にあてはまる中国の王朝名として適切なものを、次の1～4の中から一つ選び、その番号を書きなさい。
- 1 元 2 隋 3 宋 4 明

資料1

唐は、遠く西アジアやインドとの交流が盛んであったため、その影響を受けた天平文化も国際色豊かな文化であった。それを代表するのが、東大寺の正倉院に伝わる宝物である。遣唐使が唐から持ち帰り、正倉院に残されていたものの中には、□とよばれる道を通して西アジアやインドから伝わったものもある。

- (4) 資料2は、⑧の時期に出されたキリスト教に対する政策の一部を要約したものである。この政策が出された時期として適切なものを、右の年表中の1～5の中から一つ選び、その番号を書きなさい。

資料2

- 一 日本は神国であるから、キリスト教国が邪教(キリスト教)を伝え広めるのは、けしからぬことである。
- 一 土地の人々をキリスト教徒にし、神社や寺を破壊するのは、もってのほかである。
- 一 パテレン(宣教師)を日本に置いておくことはできない。今日から20日以内に準備して帰国するように。
- 一 ポルトガル船は、商売のために来ているので、パテレン追放とは別である。今後も商売をしに来るように。

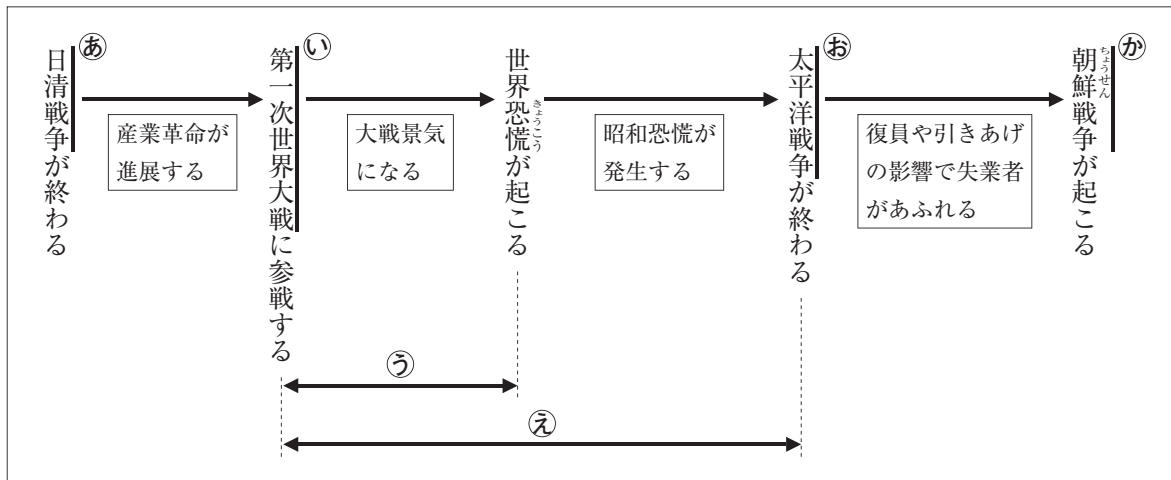
年表

1573年	室町幕府がほろびる □ 1
1582年	本能寺の変が起こる □ 2
1592年	文祿の役が起こる □ 3
1600年	関ヶ原の戦いが起こる □ 4
1637年	島原・天草一揆が起こる □ 5
1657年	明暦の大火が起こる

- (5) (㉖)にあてはまる人物名を書きなさい。
- (6) 下線部⑨について述べた下の文章中の□に入る適切な内容を、朝廷という語を用いて書きなさい。

幕府の大老井伊直弼が□ことを大きなきっかけとして、幕府の政策を批判する尊王攘夷運動が盛んになった。運動が高まる中で、安政の大獄に反発した元水戸藩士たちが桜田門外の変を起こしたり、長州藩が関門海峡を通る外国船を砲撃したりした。

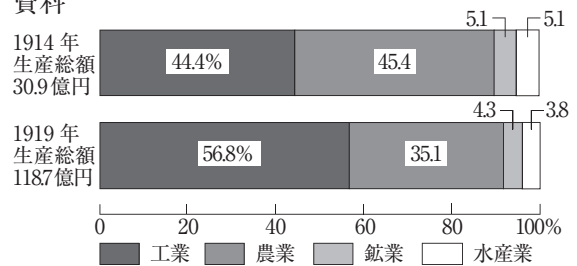
- 4 下の図は、ある生徒が日本の経済に^{えいぎょう}影響を与えた出来事についてまとめたものである。次の(1)～(6)に答えなさい。(15点)



- (1) 傍線部^{ほうせんぶ}④で得た賠償金^{ばいしょうきん}を基に現在の福岡県に建設され、1901年に操業を開始した官営の工場は何か、書きなさい。

- (2) 傍線部^{ほうせんぶ}⑤が日本の経済に与えた影響について、右の資料は、1914年と1919年の産業別生産額の割合を表している。資料の内容や当時の産業について述べた下の文Ⅰ、Ⅱの正誤の組み合わせとして適切なものを、次の1～4の中から一つ選び、その番号を書きなさい。

資料



Ⅰ 1914年から1919年にかけて、農業の生産額は減少している。

Ⅱ 1914年から1919年の間に工業では、^{ほうせき}紡績業に加え、鉄鋼や造船などの重化学工業が発達した。

- 1 I - 正 II - 正 2 I - 正 II - 誤 3 I - 誤 II - 正 4 I - 誤 II - 誤

- (3) ⑤の時期に見られた日本の社会の様子について述べた文として適切でないものを、次の1～4の中から一つ選び、その番号を書きなさい。

- 吉野作造や美濃部達吉の主張が、^{よしの さくぞう} ^{みの の べたつきち}デモクラシーの思想を広げるうえで大きな役割を果たした。
- 京都で全国水平社が結成され、差別からの解放を目指す運動は全国に広がっていった。
- 都市ではバスガールが登場するなど働く女性が増加した。
- 「三種の神器」とよばれたテレビ・洗濯機・冷蔵庫が普及した。

- (4) ⑥の時期に起こった、次の1～3の出来事を年代の古い順に並べ、その番号を書きなさい。

- ローズベルト大統領の下、^{もと}アメリカでニューディールという政策が始まった。
- ヒトラーに率いられたナチス・ドイツが、^{しんこう}ポーランドに侵攻した。
- アメリカのよびかけでワシントン会議が開かれ、海軍の軍備が制限された。

- (5) 傍線部^{ほうせんぶ}⑥のあとの戦後改革として行われたことについて述べた下の文中の□にあてはまる語を書きなさい。

連合国軍最高司令官総司令部 (GHQ) の占領政策の基本方針により、経済を民主化するために、日本の経済を支配してきた□が解体された。

- (6) 傍線部^{ほうせんぶ}⑦は日本の経済にどのような影響を与えたか、^{ぐんじゅ}軍需物資という語を用いて書きなさい。

5 下のA～Dは、ある生徒が司法について学習した内容をまとめたものである。次の(1)～(5)に答えなさい。(15点)

<p>A ㉞三審制</p> <p>裁判を慎重に行って間違っ た判決を防ぎ、人権を守るために、一つの内容について3回まで裁判が受けられる。</p>	<p>B 刑事裁判</p> <p>強い権限を持つ警察官や検察官の捜査に行きすぎがないように、㉟被疑者や被告人の権利が憲法で保障されている。</p>	<p>C ㉟司法制度改革</p> <p>日本では、裁判は利用しづらく、費用と時間がかかりすぎると考えられてきたが、このような状況を改めるために、改革が進められてきた。</p>	<p>D 三権分立</p> <p>司法権の独立という原則により、㊱裁判官の身分が保障されている。また、立法権や行政権の行きすぎを抑制し、均衡を保つために、㊲違憲審査を行う。</p>
---	--	--	---

(1) 資料1は、下線部㉞の仕組みの一部を模式的に表したものである。これについて、次のア、イに答えなさい。

ア X, Y のそれぞれに共通してあてはまる語を書きなさい。

イ 下級裁判所のうち、資料1中に表されていない裁判所は何か、書きなさい。

(2) 下線部㉟について述べた文として適切でないものを、次の1～4の中から一つ選び、その番号を書きなさい。

- 1 取り調べでの拷問は禁止され、拷問で自白しても証拠にはならない。
- 2 取り調べや裁判では、答えたくない質問には答えを拒否したり黙っていたりすることができる。
- 3 弁護人をたのむための費用が出せない場合は、裁判で弁護人をつけることはできない。
- 4 被告人は、有罪の判決を受けるまでは無罪と見なされる。

(3) 下線部㊱について述べた下の文I, IIの正誤の組み合わせとして適切なものを、次の1～4の中から一つ選び、その番号を書きなさい。

- I 弁護士などの専門家が少ない地域でも、司法に関するサービスを受けられるように、日本司法支援センター(法テラス)が設けられた。
- II 裁判員制度では、満18歳以上の国民の中から選ばれた裁判員が刑事裁判に参加し、裁判官と話し合っ
て、被告人が有罪か無罪か、有罪の場合はどのような刑罰にするかを決定する。

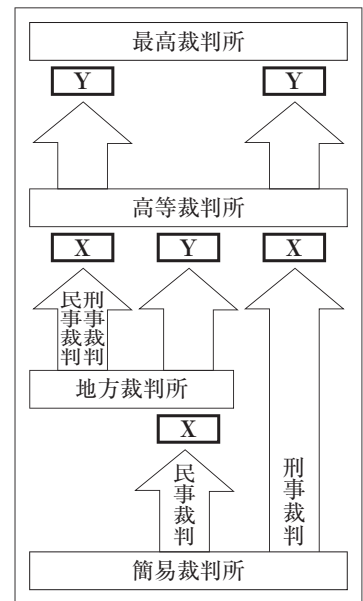
1 I-正 II-正 2 I-正 II-誤 3 I-誤 II-正 4 I-誤 II-誤

(4) 下線部㊲の保障について述べた下の文中の□にあてはまる語を書きなさい。

裁判官は、心身の病気のために職務を行えない場合や、□が設置する弾劾裁判所が辞めさせる判決を下した場合、最高裁判所の裁判官に対する国民審査によって決定された場合などを除いて、辞めさせられることはない。

(5) 資料2は、ある法律に対する各裁判所の下線部㉞の判断を表している。資料2の場合、この法律は合憲、違憲のどちらになるか、書きなさい。また、そのように考えた理由を書きなさい。

資料1



資料2

種類	違憲審査
地方裁判所	合憲
高等裁判所	合憲
最高裁判所	違憲

- 6 下の文章は、ある生徒が市場経済における生産と消費の関係についてまとめたものである。次の(1)～(4)に答えなさい。(13点)

・私たちが財やサービスといった商品を受け取る代わりに、お店に⑥お金を支払うように、生産と消費は、商品とお金のやりとりでつながっている。生産と消費を通じて、暮らしを便利で豊かにする仕組みを④経済という。

・③企業は、市場での競争力を高めるため、新しい商品を生み出す研究や、生産を効率的に行う方法の開発に力を入れており、その過程で技術革新がもたらされることがある。

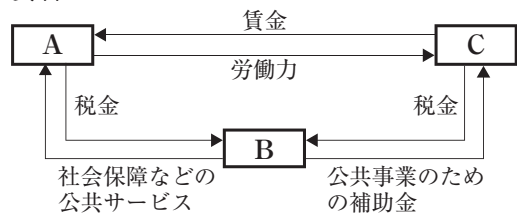
・消費者は、さまざまな商品の②価格を比べて、どの商品をどのくらい購入するかを決め、生産者も市場での価格の動きを見ながら、生産する商品とその生産量を決める。

- (1) 下線部⑥を支払う際の支払い方法として広がっているキャッシュレス決済について述べた下の文中の□□にあてはまる語を書きなさい。

キャッシュレス決済とは、クレジットカードなどを利用した、現金通貨を使わない支払いのことであり、支払いは、主に銀行にある□□通貨を使って支払いが行われている。

- (2) 下線部④の流れについて、資料1は、家計、企業、政府のかかわりの一部を表している。資料1中の□A～□Cにあてはまる語の組み合わせとして適切なものを、次の1～6の中から一つ選び、その番号を書きなさい。

資料1



- 1 A-家計 B-企業 C-政府 2 A-家計 B-政府 C-企業
 3 A-企業 B-家計 C-政府 4 A-企業 B-政府 C-家計
 5 A-政府 B-家計 C-企業 6 A-政府 B-企業 C-家計

- (3) 下線部⑤について、次のア、イに答えなさい。

ア 資料2は、ある企業の売上金や生産のためにかかった費用を表している。この企業の利潤はいくらか、金額を書きなさい。

資料2

売上金	38000万円
従業員の賃金	9800万円
原材料費	21200万円
その他経費(光熱費等)	6500万円

- イ 株式会社について述べた下の文章中の□X, □Yにあてはまる語の組み合わせとして適切なものを、次の1～4の中から一つ選び、その番号を書きなさい。

株式会社は、株式を発行することで得た資金で作られる企業である。株式を発行して資金を集めることは、□X金融の方法の一つである。また、株主には、株主総会に出席して議決に参加したり、利潤の一部を□Yとして受け取ったりする権利が保障されている。

- 1 X-直接 Y-配当 2 X-直接 Y-利子 3 X-間接 Y-配当 4 X-間接 Y-利子
- (4) 下線部⑧の変化について、ある年の2月におけるキャベツの価格は、記録的な大雪と低温による影響で不作となったために、例年より高くなった。キャベツの価格が例年より高くなった理由を、次の2語を用いて書きなさい。

供給量 需要量

7 下の会話文は、社会科の授業の様子を表している。次の(1)～(5)に答えなさい。(13点)

先生：中学校社会科のまとめとして、社会的な課題の解決策を考えてみたいと思います。まずは、これまでの社会科の学習を振り返り、課題を設定するために調べてみたいことを発表してください。

Aさん：私は、国と地方公共団体の関係に興味があるので、**㉞**明治時代から現在までの歴史を振り返り、政府と地域社会がどのようなつながりを持っていたのかを調べてみたいです。

Bさん：私は、地理で産業と社会の変化との結び付きを考察したことが印象に残っています。社会の変化が**㉟**東北地方の産業や人々の生活に与えた影響について、他の地方と比較してみたいです。

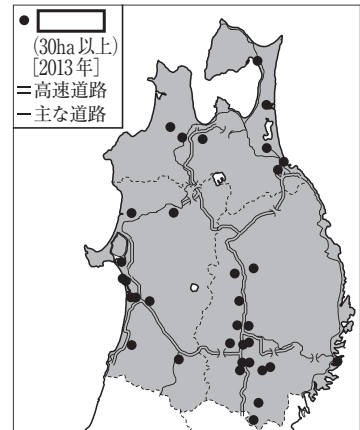
Cさん：公民で**㊱**青森県の人口構成の推移を考察したときに、全国と同じ傾向であるということを知ったので、私は、他県の人口減少対策の中で青森県にも活用できそうな事例を調べてみたいです。

Dさん：公民で地方自治が「**㊲**民主主義の学校」とよばれていることや、住民による直接民主制の考え方を取り入れた**㊳**直接請求権が認められていることを学びました。そこで、地域の課題の解決に向けた住民参加について、青森県ではどのような取り組みがあるのかを調べてみたいです。

先生：みなさん、素晴らしい発表です。では、課題の設定に向けて調査を始めましょう。

- (1) 下線部**㉞**について、明治政府が行ったこととして適切でないものを、次の1～4の中から一つ選び、その番号を書きなさい。
- 1 徴兵令の発布 2 国家総動員法の制定
3 廃藩置県の実施 4 学制の公布

資料

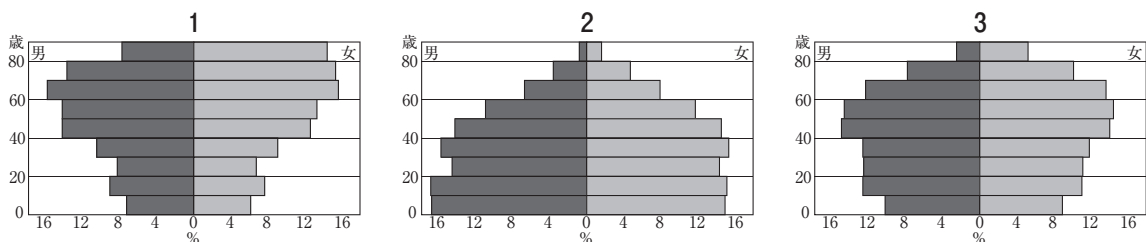


[各県資料などによる]

- (2) 右の資料は、下線部**㉟**のある特徴を表している。資料中の●について述べた下の文章中の□に共通してあてはまる語を書きなさい。

資料中の●は、半導体、自動車、精密機械などを造る工場が集まる□を表している。□は、高速道路のインターチェンジ付近など交通の便が良い場所に多く造られる傾向にある。

- (3) 下線部**㊱**について、下の1～3は、青森県の1980年、2000年、2020年のいずれかの人口ピラミッドを表している。1～3を年代の古い順に並べ、その番号を書きなさい。



[青森県ホームページによる]

- (4) 下線部**㊲**について、古代ギリシャにおいて、今日の民主主義の起源となる民主政が行われていた都市国家アテネについて述べた文として適切なものを、次の1～4の中から一つ選び、その番号を書きなさい。
- 1 ペスト(黒死病)が大流行して、人口の3分の1近くが失われた。
2 天文学が発達し、太陽を基準に1年を365日として12か月に分ける太陽暦が作られた。
3 カトリック教会の頂点に立つ教皇が人々の信仰を指導し、大きな権威を持った。
4 成年の男性からなる市民は奴隷を持ち、農業を営み、戦争では兵士として戦った。

- (5) 下線部**㊳**について述べた下の文章中の□Iにあてはまる語を書きなさい。また、□IIにあてはまる数値を書きなさい。

条例の制定や改廃を求める場合、署名をもって□Iに対して請求するとされている。有権者が150万人と仮定すると、□II万人以上の有権者の署名が必要である。